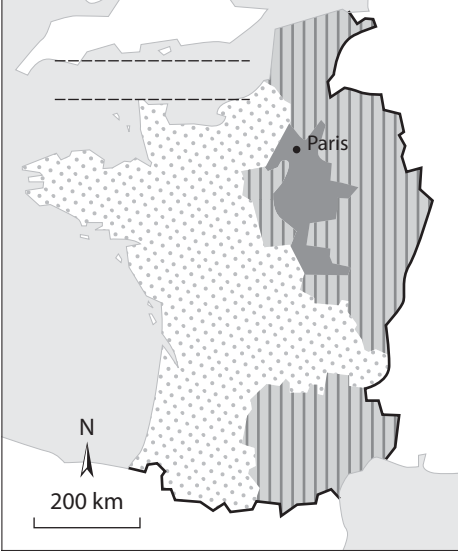
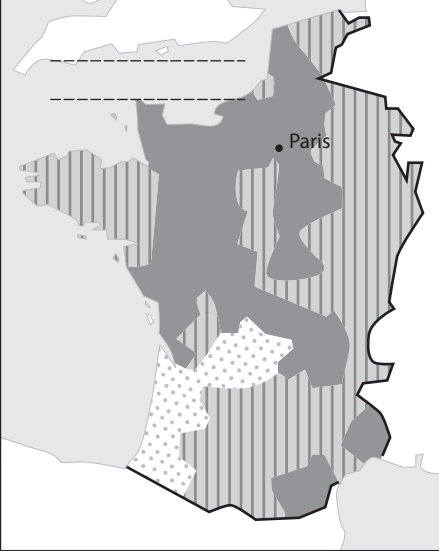
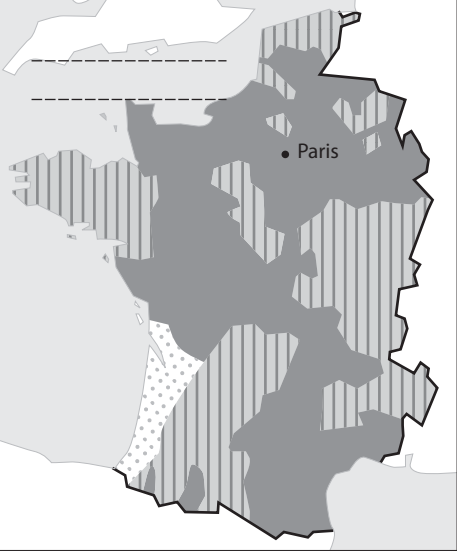


L'évolution du domaine royal du XII^e au XIV^e siècle

----- -----	----- -----	----- -----
		
----- ----- ----- -----	----- ----- ----- -----	----- ----- ----- -----

1. Placez au-dessus de chaque carte la date et le roi qui lui correspondent :

- A.** 1270, règne de Louis IX
- B.** 1328, règne de Philippe VI
- C.** 1180, règne de Philippe Auguste

2. Complétez les pointillés sur chaque carte.

3. Complétez la légende avec les éléments suivants :

- a.** Domaine royal
- b.** Fiefs du roi d'Angleterre
- c.** Limite du royaume de France
- d.** Autres fiefs